

# ТИТУЛЬНЫЙ ЛИСТ

Всероссийская олимпиада школьников

Школьный этап

Заполняется ПЕЧАТНЫМИ БУКВАМИ чернилами черного или синего цвета по образцам:

А	Б	В	Г	Д	Е	Ж	З	И	К	Л	М	Н	О	П	Р	С	Т	У	Ф	Х	Ц	Ч	Ш	Щ	Ъ	Ы	Ь	Э	Ю	Я	@	8	9	,
A	B	C	D	E	F	G	H	I	J	K	L	M	N	O	P	Q	R	S	T	U	V	W	X	Y	Z	1	2	3	4	5	6	7	0	.

ПРЕДМЕТ

ИСТОРИЯ

КЛАСС

56

ДАТА

29.09.2025

ШИФР УЧАСТНИКА

У С 5 8

ФАМИЛИЯ

Малая

ИМЯ

Ксения

ОТЧЕСТВО

Геннадьевна

Дата рождения

29.08.2014

Муниципалитет

г. Омск

Сокращенное наименование образовательной организации (школы)

БОУ СОШ №24

Сведения о педагогах-наставниках

1. Фамилия

Качкова Анна

Имя

Наталья

Отчество

Ивановна

Сокращенное наименование образовательной организации (школы)

г. Омск

2. Фамилия

Имя

Отчество

Сокращенное наименование образовательной организации (школы)

Личная подпись участника

Мал

Все поля обязательны к заполнению!

Шифр участника ИС58**ЗАДАНИЯ ДЛЯ ОБУЧАЮЩИХСЯ**

49

Время выполнения заданий – 45 минут

Максимальное количество баллов – 100 баллов

**Задание 1.**

Соотнесите личность и открытие. Запишите буквы в таблицу, под которой они указаны.

Максимальный балл за задание – 10.

	Личность	Открытие
1	Геродот	А) Сформулировал теорию эволюции путём естественного отбора
2	Чарлз Дарвин	Б) Обнаружил рисунки древнего художника в пещере Альтамира
3	Саутуола	В) На острове Ява обнаружил останки питекантропа
4	Луис Лики	Г) Обнаружил в Олдувайском ущелье останки «хомо хабилиса»
5	Эжен Дюбуа	Д) объехал почти все страны своего времени и описал обычаи и традиции многих народов

Ответ:

1	2	3	4	5
	А	Б	Г	В

85

**Задание 2.**

По какому принципу образованы ряды?

Максимальный балл за задание – 14.

1. Австралопитек, питекантроп, неандерталец

Ответ: люди

2. Костёнки, Сунгирь, Капова пещера

Ответ: жилища

3. Шерстистый носорог, мамонт, пещерный медведь

Ответ: животные которые вымерли 25

4. Земледелие, скотоводство, ремесло

Ответ: хозяйство 1

5. Духи, идолы, молитвы

Ответ: Религия 25

Шифр участника 2058

6. Анубис, Осирис, Гор

Ответ: Боги Египта 25

7. Дубина, каменное рубило, палка-копалка

Ответ: Оружие 0

75

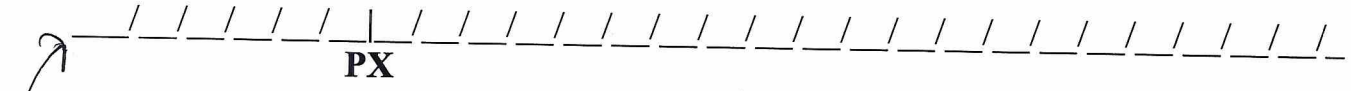
**Задание 3.**

На данной ленте времени каждый отрезок между делениями соответствует одному веку.

Максимальный балл за задание – 8.

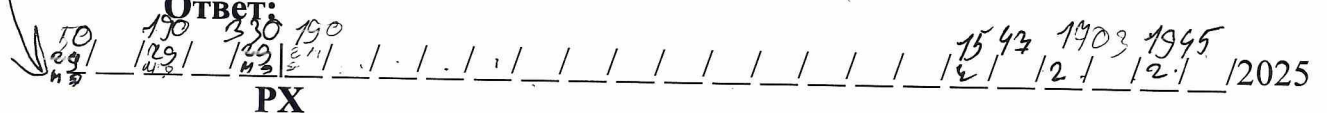
1. Отметьте на ленте времени черточками и подпишите следующие годы: 330 г. до н. э., 50 г. до н. э., 190 г. н. э., 1547 г., 1703 г., 1945 г.

Ответ:



2. Город Омск был основан в 1716 году. Отметьте на «линии времени» этот год. Подсчитайте, сколько лет исполнилось Омску в 2025 году. Вычисления делайте письменно.

Ответ:



**Задание 4.**

Установи соответствие между понятиями и их определениями.

Максимальный балл за задание – 8.

Понятие		Определение	
1	Иероглифы	А	«Островок» в пустыне, покрытый растительностью
2	Мифы	Б	Водоподъёмный механизм для подачи воды
3	Шадуф	В	Повествования о богах, духах, обожествленных героях
4	Оазис	Г	Обозначение царя Древнего Египта
5	Эволюция	Д	Первый период каменного века, время существования древнейших людей
6	Религия	Е	Рисунчатые знаки египетской письменности
7	Фараон	Ж	Вера в богов, духов, в сверхъестественное и поклонение им
8	Палеолит	З	Постепенные изменения в природе или обществе

**Ответ:**

1	2	3	4	5	6	7	8
Е	В	Д	А	Б	Ж	З	И

**Задание 5.**

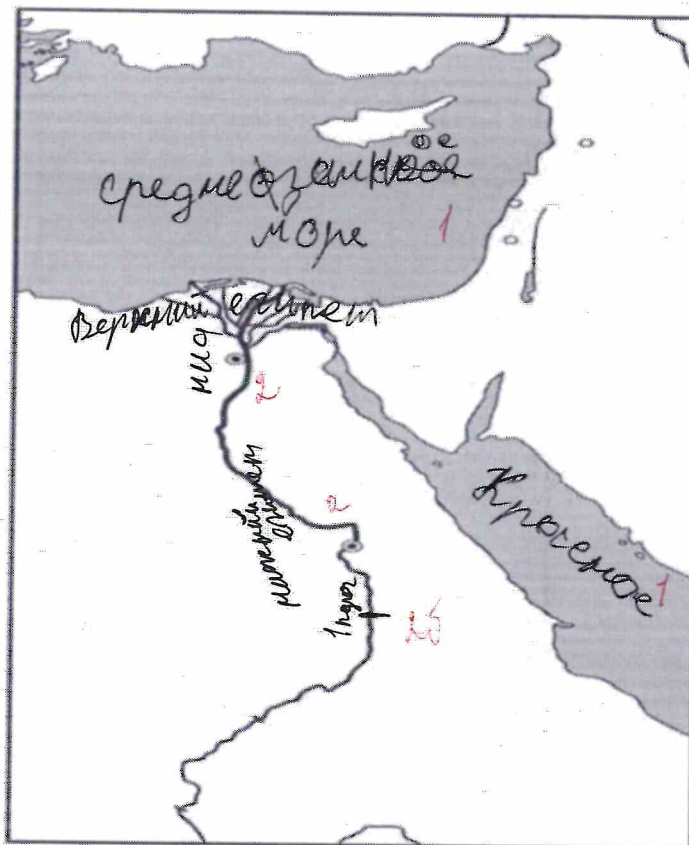
**Работа с картой.**

Максимальный балл за задание - 10.

На контурной карте Египта:

1. Напишите названия морей, омывающих Египет.
2. Напишите название главной реки Египта.
3. Обозначьте на карте 1-ый порог.
4. Укажите на карте пунсоном и напишите название столицы единого Египетского государства.
5. Отметьте территории верхнего и нижнего Египта.

**Ответ:**



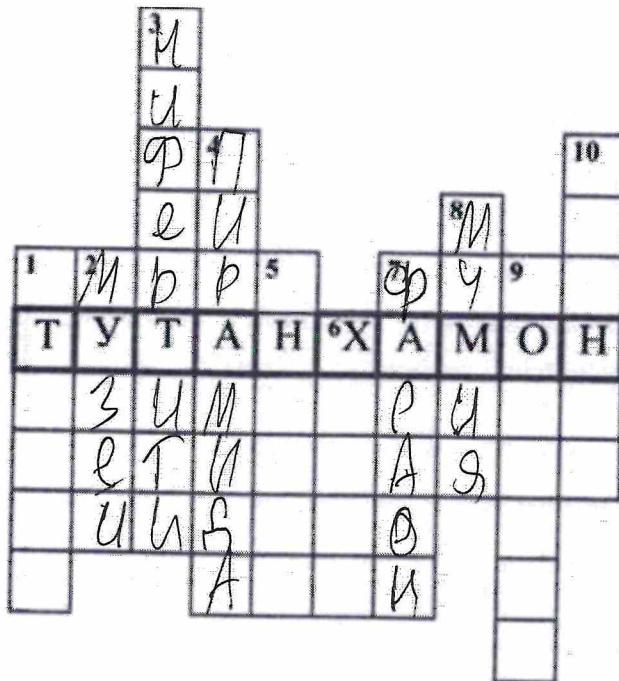
85

Шифр участника ИВ 58

**Задание 6.**

**Разгадайте кроссворд.**

Максимальный балл за задание — 10.



55

**По вертикали:**

1. Скульптурное изображение человека из камня, глины, дерева.
2. Учреждения, где хранятся памятники истории и культуры.
3. Имя египетской царицы.
4. Огромная каменная гробница фараона.
5. Бог, которого изображали с телом человека и чёрной головой шакала.
6. Фараон, захороненный в самой высокой пирамиде.
7. Всесильный владыка Египта.
8. Специально подготовленное для существования в «Царстве мертвых» тело человека.
9. Высокий столб, обычно служащий опорой здания.
10. Фантастическое существо с телом льва и головой человека.

**Задание 7.**

**Прочитайте текст и вставьте пропущенные слова.**

Максимальный балл за задание — 10 баллов.

Шифр участника ИС58

1) Сначала в долине реки А) Нил<sup>1</sup> существовало много мелких государств, которые со временем образовали два крупных: Б) Нижний Египет и В) Верхний Египет. Примерно в Г) 3000<sup>1</sup> году до н.э. они объединились в одно государство во главе которого стоял Д) Фараон<sup>1</sup>. 35

Слова: Нижний, фараон, Нил, 3000, Верхний.

2) Египет располагается на северо-востоке А) Африки<sup>1</sup>: от Б) Средиземного<sup>1</sup> моря на севере до первого порога на реке В) Нил<sup>1</sup> на юге, от Г) Красного<sup>1</sup> моря на востоке до Д) Ливийской<sup>1</sup> пустыни на западе. 55

Слова: Красного, Африки, Ливийской, Средиземного, Нил. 85

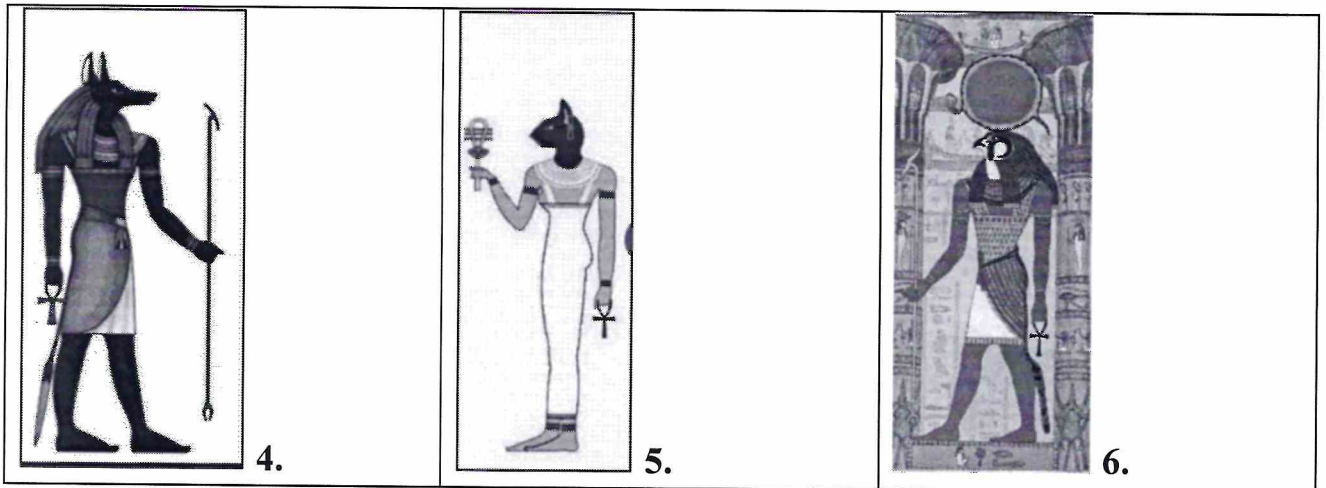
**Задание 8.**

Подпишите названия богов под картинками, и каким силам природы они соответствовали, кому покровительствовали.

Максимальный бал за задание – 12.



Шифр участника ИС 58



Ответ:





№	Имя бога	Чему покровительствует
1		
2		
3		
4		
5		
6		

**Задание 9.**

**Распределите иллюстрации по видам исторических источников. Заполните в таблицу цифры, под которыми указаны источники.**

*Максимальный бал за задание – 9.*

Шифр участника 11С58



Шифр участника Мс58







Ответ:


Вещественные источники	Письменные источники	Устные источники
4, 3, 6	2, 4, 7	8, 9

Задание 10.

На фотографиях изображены памятники архитектуры и скульптуры города Омска. Определите их название.

Максимальный балл за задание - 9.

<p>А)</p> 	<p>Б)</p> 	<p>В)</p> 
<p>Г)</p> 	<p>Д)</p> 	<p>Е)</p> 

Шифр участника ИСБЭ

Ответ:

- А. \_\_\_\_\_
- Б. \_\_\_\_\_
- В. ~~Башня~~ Любка 15
- Г. \_\_\_\_\_
- Д. Церковь
- Е. \_\_\_\_\_
- Ж. \_\_\_\_\_
- З. Старские ворота
- И. \_\_\_\_\_