

# ТИТУЛЬНЫЙ ЛИСТ

Всероссийская олимпиада школьников

Школьный этап

Заполняется ПЕЧАТНЫМИ БУКВАМИ чернилами черного или синего цвета по образцам:

А	Б	В	Г	Д	Е	Ж	З	И	К	Л	М	Н	О	П	Р	С	Т	У	Ф	Х	Ц	Ч	Ш	Щ	Ъ	Ы	Ь	Э	Ю	Я	@	8	9	,
A	B	C	D	E	F	G	H	I	J	K	L	M	N	O	P	Q	R	S	T	U	V	W	X	Y	Z	1	2	3	4	5	6	7	0	.

ПРЕДМЕТ

ИСТОРИЯ

КЛАСС

5Б

ДАТА

29.09.2023

ШИФР УЧАСТНИКА

И С Б 7

ФАМИЛИЯ

ИРКА АБЕЛОВА

ИМЯ

КРИСТИНА

ОТЧЕСТВО

АЛЕКСАНДРОВНА

Дата рождения

14.11.2014

Муниципалитет

ГОРОД ОМСК.

Сокращенное наименование образовательной организации (школы)

БОУ СОШ № 124

Сведения о педагогах-наставниках

1. Фамилия

КОЧКАЕВА

Имя

НАТАЛЬЯ

Отчество

ИВАНОВНА

Сокращенное наименование образовательной организации (школы)

БОУ СОШ № 124

2. Фамилия

Имя

Отчество

Сокращенное наименование образовательной организации (школы)

Личная подпись участника

Все поля обязательны к заполнению!

Шифр участника УСБФ**ЗАДАНИЯ ДЛЯ ОБУЧАЮЩИХСЯ**

Время выполнения заданий – 45 минут

Максимальное количество баллов – 100 баллов

595

**Задание 1.**

Соотнесите личность и открытие. Запишите буквы в таблицу, под которой они указаны.

Максимальный балл за задание – 10.

	Личность	Открытие
1	Геродот	А) Сформулировал теорию эволюции путём естественного отбора
2	Чарлз Дарвин	Б) Обнаружил рисунки древнего художника в пещере Альтамира
3	Саутуола	В) На острове Ява обнаружил останки питекантропа
4	Луис Лики	Г) Обнаружил в Олдувайском ущелье останки «хомо хабилиса»
5	Эжен Дюбуа	Д) объехал почти все страны своего времени и описал обычаи и традиции многих народов

Ответ:

1	2	3	4	5
Г	А	Б	А	АВ
20	20	20		20

85

**Задание 2.**

По какому принципу образованы ряды?

Максимальный балл за задание – 14.

1. Австралопитек, питекантроп, неандерталец

Ответ: Древние люди 20

2. Костёнки, Сунгирь, Капова пещера

Ответ: Пещеры 1

3. Шерстистый носорог, мамонт, пещерный медведь

Ответ: Дикие животные 1

4. Земледелие, скотоводство, ремесло

Ответ: Хозяйственная деятельность 1

5. Духи, идолы, молитвы

Ответ: Религия 2



Шифр участника

01057

Ответ:

1	2	3	4	5	6	7	8
Е	В	Б	А	З	Ж	Г	Д

10 10 10 10 10 10 10 10

80

Задание 5.

Работа с картой.

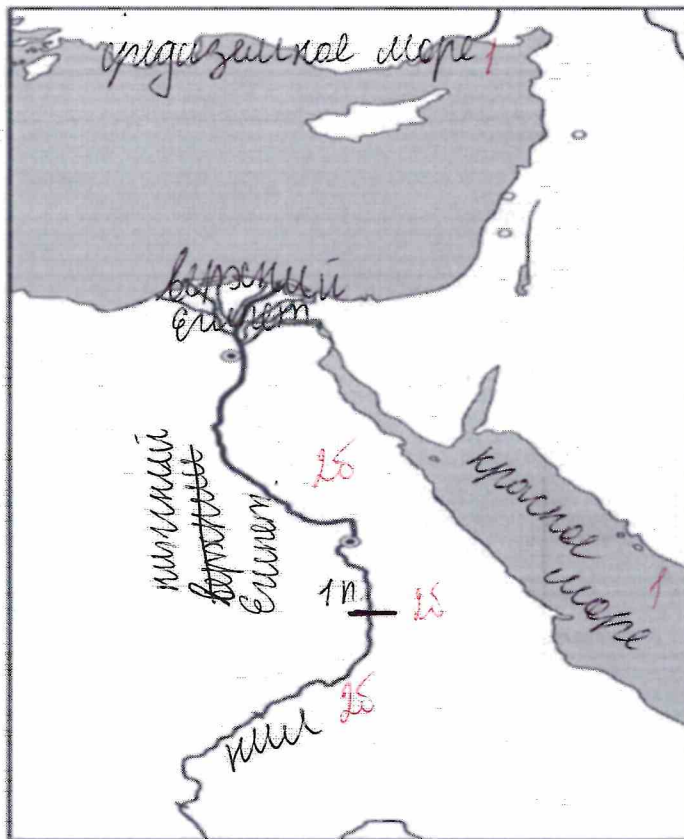
Максимальный балл за задание - 10.

На контурной карте Египта:

1. Напишите названия морей, омывающих Египет. ✓
2. Напишите название главной реки Египта.
3. Обозначьте на карте 1-ый порог.
4. Укажите на карте пунсоном и напишите название столицы единого Египетского государства.
5. Отметьте территории верхнего и нижнего Египта.

Ответ:

80



Шифр участника УСЗ7

**Задание 6.**

**Разгадайте кроссворд.**

*Максимальный балл за задание — 10.*



**По вертикали:**

1. Скульптурное изображение человека из камня, глины, дерева.
2. Учреждения, где хранятся памятники истории и культуры.
3. Имя египетской царицы.
4. Огромная каменная гробница фараона.
5. Бог, которого изображали с телом человека и чёрной головой шакала.
6. Фараон, захороненный в самой высокой пирамиде.
7. Всесильный владыка Египта.
8. Специально подготовленное для существования в «Царстве мертвых» тело человека.
9. Высокий столб, обычно служащий опорой здания. X
10. Фантастическое существо с телом льва и головой человека.

**Задание 7.**

**Прочитайте текст и вставьте пропущенные слова.**

*Максимальный балл за задание — 10 баллов.*

Шифр участника UC 57

1) Сначала в долине реки А) Нил существовало много мелких государств, которые со временем образовали два крупных: Б) Верхний Египет и В) Нижний Египет. Примерно в 3000 году до н.э. они объединились в одно государство во главе которого стоял Д) Саргон.

Слова: Нижний, фараон, Нил, 3000, Верхний.

2) Египет располагается на северо-востоке А) Африки: от Б) Средиземного моря севере до первого порога на реке В) Нил на юге, от Г) Красного моря на востоке до Д) Ливийской пустыни на западе.

Слова: Красного, Африки, Ливийской, Средиземного, Нил.

105

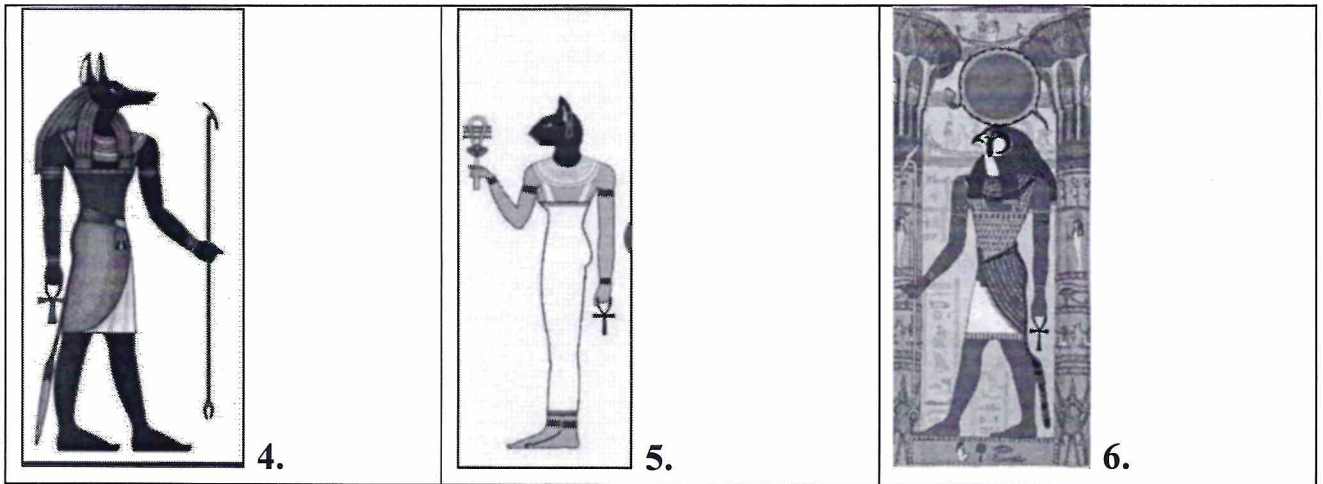
**Задание 8.**

Подпишите названия богов под картинками, и каким силам природы они соответствовали, кому покровительствовали.

Максимальный бал за задание – 12.



Шифр участника 4157



Ответ:






№	Имя бога	Чему покровительствует
1		
2		
3		
4	Анубис	Бог Египта.
5	Исидис	
6		

Задание 9.

Распределите иллюстрации по видам исторических источников.  
Заполните в таблицу цифры, под которыми указаны источники.

Максимальный бал за задание – 9.

Шифр участника УСБЗ



Шифр участника И С 57

Ответ:

Вещественные источники	Письменные источники	Устные источники
1, 3, 6	2, 4, 7	5, 8, 9

30

30







30


90

Задание 10.

На фотографиях изображены памятники архитектуры и скульптуры города Омска. Определите их название.

Максимальный балл за задание- 9.

<p>А)</p> 	<p>Б)</p> 	<p>В)</p> 
<p>Г)</p> 	<p>Д)</p> 	<p>Е)</p> 

Шифр участника ИЛБЗ**Ответ:**

- А. \_\_\_\_\_
- Б. \_\_\_\_\_
- В. *Статуя Мобочка. 15*
- Г. \_\_\_\_\_
- Д. *Церковь 0*
- Е. \_\_\_\_\_
- Ж. \_\_\_\_\_
- З. \_\_\_\_\_
- И. *Краси. 0*