

ЗАДАНИЯ ДЛЯ ОБУЧАЮЩИХСЯ
Время выполнения заданий – 45 минут
Максимальное количество баллов – 100 баллов

Задание 1. Максимальный балл за задание – 8.

Соотнесите периоды древнейшей истории и их приблизительную датировку.

Запишите буквы в таблицу, под которой он указан.

Приблизительная датировка	Период древнейшей истории
1 Полтора миллиона лет назад	А) появление первых стоянок древнейших людей на территории современной России
2 Полмиллиона лет назад	Б) начало использования древнейшими людьми огня
3 Сто тысяч лет назад	В) появление первых людей современного типа
4 Сорок тысяч лет назад	Г) начало последнего ледникового периода

Ответ:

1	2	3	4
<u>Б</u>	<u>А</u>	<u>В</u>	<u>Г</u>

85

Задание 2. Максимальный балл за задание – 15.

По какому принципу образованы ряды?

1. Шерстистый носорог, мамонт, пещерный медведь животные которые жили до н
2. Земледелие, скотоводство, ремесло занятия египтян
3. Духи, идолы, молитвы _____
4. Анубис, Осирис, Гор Боги египта
5. Дубина, каменное рубило, палка-копалка оружие древних людей

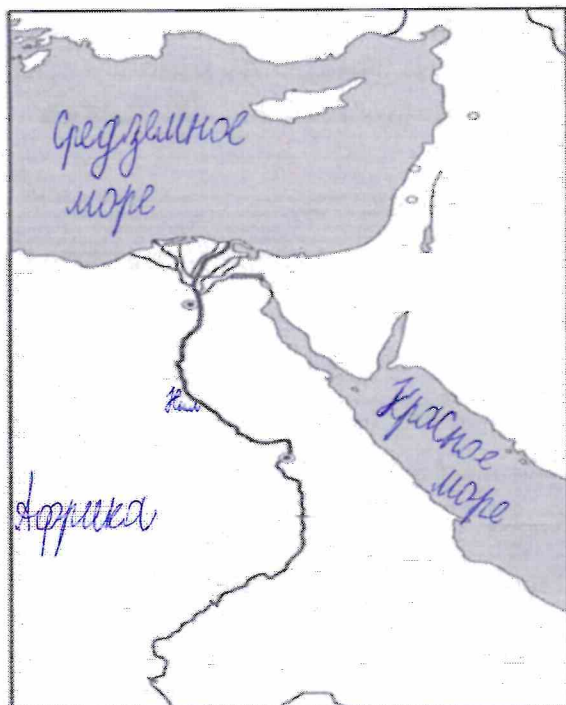
65

Задание 3. Максимальный балл за задание – 6.

На контурной карте Египта:

1. Напишите названия морей, омывающих Египет.
2. Напишите название главной реки Египта.
3. Напишите, как называется материк, на котором расположен Египет.

Шифр участника И-5.2



65

Задание 4. Максимальный балл за задание – 8.

Установи соответствие между понятиями и их определениями.

Понятия	Определения понятий
1 Папирус	А) Сплав меди и олова
2 Бронза	Б) Усыпальница царей Египта и членов их семей
3 Шадуф	В) Писчий материал
4 Пирамида	Г) Приспособление для полива садов и огородов

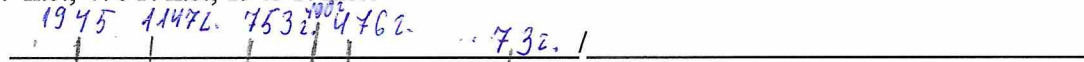
Ответ:

1	2	3	4
В	А	Г	Б

85

Задание 5. Максимальный балл за задание – 8.

1. Отметьте на «линии времени» 753 г. до н.э., 73 г. до н.э., 490 г. до н.э., 1147 г. н.э., 476 г. н.э., 1945 г. н.э.?



До нашей эры

Наша эра

05

Шифр участника И-5.2

1. Древнейший гроб.
2. Бог, хранитель мертвых с головой шакала.
3. Учёный, открывший гробницу Тутанхамона.
4. Правитель Египта.
5. Государство в Северо-Восточной Африке.
6. Фараон, правивший всего 6 лет, но известный всему миру.
7. Тело умершего, пропитанное смолой и обмотанное бинтами.
8. Место нахождения гроба фараона.
9. Учёные, производящие раскопки.
10. Амулет, обозначающий жизнь, спрятанный между слоями полотен фараона Тутанхамона.

Задание 7. Максимальный балл за задание – 10.

Соотнесите имена египетских богов и их характеристики.

Характеристика египетского бога	Египетский бог
1 Богиня истины, справедливости и гармонии.	А) Амон
2 Покровитель земледелия, садоводства, а также царь загробного мира.	Б) Осирис
3 Бог мудрости и знаний.	В) Маат
4 Бог солнечного диска	Г) Сет
5 Бог Солнца и покровитель города Фивы.	Д) Тот
6 Бог песчаных бурь, хаоса и войны.	Е) Гор
7 Богиня любви, плодородия и женской красоты.	Ж) Апис
8 Священный бык, сын богини неба Нут.	З) Анубис
9 Покровитель земных фараонов	И) Атон
10 Проводник в умерших в царство мёртвых	К) Бастет

Соответствующие буквы ответов внеси в таблицу.

Ответ:

1	2	3	4	5	6	7	8	9	10
В	Б	Д	И	А	Г	З		Е	

1 1 1 1 1 1 0 0 1 0

5

75.

Шифр участника И-5.2

Задание 8. Максимальный балл за задание – 8.

Прочитайте текст и вставьте пропущенные слова.

Завоевательные походы египетских фараонов стали особенно успешны после появления важного изобретения в области военного снаряжения – запряжённой конями А) _____, позволившей воинам быстро передвигаться на большие расстояния и внезапно атаковать противника. Ещё в эпоху Древнего царства Египет стремился покорить богатую золотыми рудниками Б) _____ на юге. В эпоху Нового царства, помимо этой области, египетские войска покорили В) _____ на западе, богатый медными рудниками Г) _____ полуостров, а затем, вторглись в Азию, завоевали Д) _____, Е) _____ и Ж) _____, дойдя до реки З) _____.

Ответ:

А) <i>в колеснице</i> <i>1б</i>	Д)
Б) <i>Страну Нубия</i> <i>1</i>	Е)
В) <i>Страну Ливия</i> <i>1</i>	Ж)
Г)	З) <i>Нил</i>

3б

Задание 9. Максимальный балл за задание – 12.

Расположите ремесленные изделия в хронологическом порядке их появления.

- А. глиняная посуда
- Б. литые медные орудия труда
- В. деревянная посуда
- Г. кованые медные орудия труда
- Д. бронзовые орудия труда
- Е. золотые и серебряные украшения

Ответ:




1	2	3	4	5	6
<i>В</i>	<i>А</i>	<i>В</i>	<i>Б</i>	<i>А</i>	<i>Е</i>

2 2 2



6б

Задание 10. Максимальный балл за задание – 15.

На фотографиях изображены памятники архитектуры и скульптуры города Омска. Определите их название. Напишите год возведения каждого памятка.

А)		Название: Год возведения:
Б)		Название: Год возведения:
В)		Название: Год возведения:

Шифр участника И-5.2

Г)		Название: <i>Памятник Любови</i> Год возведения: <i>25</i>
Д)		Название: Год возведения: